



И. А. Артасов

О. Н. Мельникова

**ТРУДНЫЕ ЗАДАНИЯ**

**ЕГЭ**

ГОТОВИМСЯ К ЭКЗАМЕНУ

**ИСТОРИЯ**

**РАБОТА  
С ИЗОБРАЖЕНИЯМИ**

ТРУДНЫЕ ЗАДАНИЯ



И. А. Артасов О. Н. Мельникова

# ИСТОРИЯ

ТРУДНЫЕ ЗАДАНИЯ ЕГЭ

## РАБОТА С ИЗОБРАЖЕНИЯМИ

Учебное пособие  
для общеобразовательных организаций

Москва  
«Просвещение»  
2019

Серия «Трудные задания ЕГЭ» основана в 2019 году.



**Артасов И. А.**

**А86** История. Трудные задания ЕГЭ. Работа с изображениями : учеб. пособие для общеобразоват. организаций / И. А. Артасов, О. Н. Мельникова. — М. : Просвещение, 2019. — 96 с. — (Трудные задания ЕГЭ). — ISBN 978-5-09-067993-0.

Пособие «История. Трудные задания ЕГЭ. Работа с изображениями» адресовано выпускникам школ, планирующим получить высокий балл на экзамене.

В пособии приведён подробный разбор выполнения заданий ЕГЭ повышенного и высокого уровня сложности (задания с изображениями). Отбор заданий осуществлён на основе анализа результатов выполнения экзаменационных работ участниками ЕГЭ прошлых лет, подготовленного Федеральным институтом педагогических измерений.

В пособии проанализированы типичные ошибки, возникающие при решении выбранных заданий; приводятся примеры решения подобных заданий с комментариями; предлагаются задания для самостоятельного решения. В конце пособия содержатся ответы к заданиям.

Пособие адресовано выпускникам для отработки навыков, закрепления способов и приёмов решения наиболее сложных заданий ЕГЭ как под руководством учителя, так и самостоятельно.

УДК 373:94+94(075.3)

ББК 63.3я721

Учебное издание

Серия «Трудные задания ЕГЭ»

**Артасов Игорь Анатольевич**  
**Мельникова Ольга Николаевна**

**История**

**Трудные задания ЕГЭ**

**Работа с изображениями**

Учебное пособие для общеобразовательных организаций

Редакция истории, обществознания и права

Зав. редакцией *Е. Е. Бакаляр*. Редактор и ответственный за выпуск *Ю. С. Соболева*.

Художественный редактор *А. В. Щербаков*. Дизайнер *А. Г. Бушин*.

Техническое редактирование и компьютерная вёрстка *Е. В. Алфёровой*. Корректор *Н. В. Белозёрова*

Налоговая льгота — Общероссийский классификатор продукции ОК 005-93—953000.

Изд. лиц. Серия ИД № 05824 от 12.09.01. Подписано в печать 28.01.19. Формат 84×108<sup>1/16</sup>.

Бумага типографская. Гарнитура SchoolBookASanPin. Печать офсетная. Уч.-изд. л. 5,46.

Тираж 3000 экз. Заказ № 54883СМ.

Акционерное общество «Издательство «Просвещение».

Российская Федерация, 127473, г. Москва, ул. Краснопролетарская, д. 16,  
стр. 3, этаж 4, помещение I.

Отпечатано в России.

Отпечатано по заказу АО «ПолиграфТрейд» в филиале «Смоленский полиграфический комбинат» ОАО «Издательство «Высшая школа».

Российская Федерация, 214020, г. Смоленск, ул. Смольянинова, 1.

Тел.: +7(4812) 31-11-96. Факс: +7(4812) 31-31-70.

E-mail: spk@smolpk.ru <http://www.smolpk.ru>

## СОДЕРЖАНИЕ

Введение .....	4
Раздел I. Русское государство в VIII–XV вв. ....	8
Раздел II. Россия в XVI – конце XVII в. ....	22
Раздел III. Россия в конце XVII – начале XX в. ....	44
Раздел IV. Россия в начале XX – начале XXI в. ....	64
Ответы к заданиям .....	96



## ВВЕДЕНИЕ

### *Дорогие выпускники!*

Вы держите в руках пособие, которое поможет вам подготовиться к выполнению заданий на проверку умения работать с изобразительной наглядностью (иллюстративным материалом) Единого государственного экзамена по истории. Именно эти задания ежегодно становятся одними из самых трудных для выпускников, с ними справляются всего 25—50% школьников.

Экзаменационная работа содержит два задания по работе с изобразительной наглядностью, которые стоят на позициях **18** и **19**. Задание **18** нацелено на проверку умения работать со «сложным» изображением, содержащим несколько различных элементов, как изобразительных, так и текстовых. При составлении задания **18** используются карикатуры, изображения почтовых марок, денежных купюр, юбилейных монет, медалей, плакатов. Задание нацелено не просто на узнавание изображения, которое выпускники когда-то уже видели, а на «чтение» нетекстового материала: нужно проанализировать отдельные элементы изображения, которые связаны с определёнными историческими событиями, явлениями, процессами, и на этой основе сделать выводы. В задании **19** от выпускника требуется провести атрибуцию четырёх изображений, выяснив, на каких из них, например, показаны здания (скульптуры), созданные в определённом веке, находящиеся в определённом городе, или картины, созданные в определённом стиле, или марки, выпущенные в определённом десятилетии, и т. п. При составлении этого задания используются изображения памятников архитектуры, скульптуры, картин (общеизвестные памятники культуры), а также изображения почтовых марок, юбилейных монет, медалей и др.

Большинство ошибок, которые выпускники допускают при выполнении заданий **18** и **19**, связаны с неправильной исторической атрибуцией данного в задании изобразительного объекта. Как правило, к этим ошибкам приводит незнание исторических фактов или неумение работать с изобразительной наглядностью. При этом задание **18**, как правило, выпускники выполняют хуже, чем задание **19**. При выполнении задания **18** выпускники испытывают наибольшие затруднения, когда для атрибуции изображения необходимо выполнить определённые логические действия, а также применить знания по истории.

Приведём пример. В одном из экзаменационных вариантов ЕГЭ были даны следующие задания.

Рассмотрите изображение и выполните задания 18, 19.



18

Какие суждения о данном почтовом блоке являются верными? Выберите два суждения из пяти предложенных. Запишите в таблицу цифры, которыми они обозначены.

- 1) Памятник русского литейного искусства, представленный в нижнем правом углу почтового блока, был создан в XVII в.
- 2) Почтовый блок выпущен в честь события, произошедшего в период, когда столицей Российского государства была Москва.
- 3) На почтовом блоке изображён храм — место коронации русских царей и императоров.
- 4) Все архитектурные сооружения, представленные на почтовом блоке, были созданы при одном и том же правителе.
- 5) В левом нижнем углу почтового блока изображён памятник русского литейного искусства, созданный мастером Андреем Чоховым.

Ответ:

<input type="text"/>	<input type="text"/>
----------------------	----------------------

19

Какие памятники возведены в городе, которому посвящён данный почтовый блок? В ответе запишите две цифры, которыми обозначены эти памятники.

1)



2)



3)



4)



Ответ:

При выполнении задания 18 наиболее распространённой ошибкой было указание суждения 2 в качестве правильного ответа (около 45% выпускников). В данном случае для установления неверности этого суждения было необходимо увидеть, что почтовый блок выпущен к 200-летию музеев Московского Кремля, год выпуска почтового блока — 2006 г., посчитать, что событие, в честь которого выпущен почтовый блок, произошло в 1806 г. ( $2006 - 200 = 1806$ ), и вспомнить, что в этот период столицей Российской империи был Санкт-Петербург. Задание 18 оказалось очень трудным для выпускников, с ним справились всего около 25% экзаменуемых.

С заданием 19 справились около 50% выпускников. Наиболее распространённой ошибкой (у более 20% экзаменуемых) было указание в качестве правильного ответа изображения 4.

Чтобы успешно выполнять задания на проверку умений работать с изобразительной наглядностью, необходимо следующее:

1. *Знание исторических фактов.* Без знания истории невозможно проявить свои умения по работе с изобразительной наглядностью. Как видно из примера, задание 18 практически невозможно выполнить правильно без знания фактов из истории России.

2. *Умение работать с иллюстративной наглядностью.* Важно научиться видеть и определять значение отдельных элементов «сложных» изображений, какими являются, например, изображения на почтовых марках, а также научиться узнавать изображения наиболее известных памятников культуры.

3. *Работать с изобразительной наглядностью в процессе изучения истории.* Эта работа может заключаться в поиске и изучении изображений, иллюстрирующих события определённого периода истории России или посвящённых этим событиям, в анализе изобразительной наглядности (картин на исторические сюжеты, изображений орудий труда, памятников культуры и т. п.).

4. *Тренироваться в выполнении заданий на проверку умений работать с изобразительной наглядностью.* Большую помощь в этом вам окажет данное учебное пособие, в котором представлены задания на работу с иллюстративным материалом в формате ЕГЭ.

Пособие состоит из четырёх разделов, посвящённых отдельным периодам истории России: 1) VIII—XV вв.; 2) XVI — конец XVII в.; 3) конец XVII — начало XX в.; 4) начало XX — начало XXI в. Каждый раздел содержит задания в формате ЕГЭ. При работе с пособием следует учитывать, что задания распределены по разделам условно: при отнесении задания к одному из указанных периодов большая часть используемого в задании материала относится к этому периоду, но в нём могут присутствовать отдельные изображения или элементы изображений, посвящённые другим периодам истории. Указанным свойством обладают и задания на работу с иллюстративным материалом, используемые на экзамене.

***Желаем успеха на экзамене!***



## Раздел I.

### Русское государство в VIII—XV вв.

Рассмотрите изображение и выполните задания 1, 2.



1

Какие суждения о марке являются верными? Выберите два суждения из пяти предложенных. Запишите в таблицу цифры, которыми они обозначены.

- 1) Годом основания города, юбилею которого посвящена данная марка, авторы изображения считают год призвания варягов.
- 2) Собор, изображённый в левой части марки, возведён в XI в.
- 3) Собор, изображённый в левой части марки, построен в шатровом стиле.
- 4) Данная марка была выпущена в период «оттепели».
- 5) В росписи собора, изображённого в левой части марки, участвовал Андрей Рублёв.

Ответ:

--	--

**2** Какие из памятников культуры, представленных ниже, находятся в городе, юбилею которого посвящена данная марка? В ответе запишите две цифры, которыми обозначены эти памятники культуры.

1)



2)



3)



4)



Ответ:

Рассмотрите изображение и выполните задания 3, 4.



3

Какие суждения о марке являются верными? Выберите два суждения из пяти предложенных. Запишите в таблицу цифры, которыми они обозначены.

- 1) Автором произведения, которому посвящена марка, был монах Нестор.
- 2) Литературное произведение, название которого упомянуто на марке, посвящено походу князя Игоря Рюриковича на Византию.
- 3) В левой части марки изображён сказитель — боян, играющий на гуслях.
- 4) Данная марка была выпущена в период, когда СССР руководил И. В. Сталин.
- 5) Литературное произведение, которому посвящена марка, было создано в период политической раздробленности русских земель.

Ответ:

--	--

4

Какие из памятников архитектуры, представленных ниже, были созданы в том же веке, что и литературное произведение, которому посвящена марка? В ответе запишите две цифры, которыми обозначены эти памятники архитектуры.

1)



2)



3)



4)



Ответ:

--	--



Рассмотрите изображение и выполните задания 5, 6.



5

Какие суждения о марке являются верными? Выберите два суждения из пяти предложенных. Запишите в таблицу цифры, которыми они обозначены.

- 1) Помещённое в центральной части марки живописное произведение относится к жанру книжной миниатюры.
- 2) Памятник литературы, название которого упомянуто на марке, был создан при дворе Владимира Мономаха.
- 3) В верхней части марки изображены создатели славянской азбуки.
- 4) Данная марка была выпущена в период, когда СССР руководил Л. И. Брежнев.
- 5) Жанр указанного на марке памятника литературы получил широкое распространение на Руси с IX в.

Ответ:

<input type="text"/>	<input type="text"/>
----------------------	----------------------

6

Какие из архитектурных сооружений, представленных ниже, были созданы в том же веке, что и памятник литературы, которому посвящена марка? В ответе запишите две цифры, которыми обозначены эти памятники архитектуры.

1)



2)



3)



4)



Ответ:

<input type="text"/>	<input type="text"/>
----------------------	----------------------

Рассмотрите изображение и выполните задания 7, 8.



7

Какие суждения о марке являются верными? Выберите два суждения из пяти предложенных. Запишите в таблицу цифры, которыми они обозначены.

- 1) В верхней части марки изображён инициатор созыва Любечского съезда князей.
- 2) Марка посвящена созданию сборника правовых норм Древнерусского государства.
- 3) В исторический период, указанный в верхней части марки, Древнерусское государство сохраняло целостность.
- 4) В год, когда была выпущена марка, распался СССР.
- 5) Азбука, буквы которой использованы для написания документа, изображённого на марке, получила название «глаголица».

Ответ:

--	--

8

Какие из монет, представленных ниже, посвящены юбилеям событий, произошедших в исторический период, указанный на марке? В ответе запишите две цифры, которыми обозначены эти монеты.

1)



2)



3)



4)



Ответ:



Рассмотрите изображение и выполните задания 9, 10.



9

Какие суждения о марке являются верными? Выберите два суждения из пяти предложенных. Запишите в таблицу цифры, которыми они обозначены.

- 1) На марке изображён монастырь, основанный в первой четверти XIV в.
- 2) В левом верхнем углу марки помещено изображение иконы, написанной Феофаном Греком.
- 3) Изображённый на марке монастырь был хорошо укреплённой крепостью.
- 4) Изображённые на марке архитектурные сооружения монастыря созданы в одном художественном стиле.
- 5) Исторический деятель, изображённый в левом нижнем углу марки, дал благословение князю Дмитрию Ивановичу перед Куликовской битвой.

Ответ:

--	--

10

Какие из памятных знаков, представленных ниже, посвящены историческим деятелям, жившим в том же веке, когда был основан монастырь, изображённый на марке? В ответе запишите две цифры, которыми обозначены эти памятные знаки.

1)



2)



3)



4)



Ответ:

--	--

Рассмотрите изображение и выполните задания 11, 12.



11

Какие суждения о почтовой марке являются верными? Выберите два суждения из пяти предложенных. Запишите в таблицу цифры, которыми они обозначены.

- 1) На марке изображено архитектурное сооружение, в оформлении которого широко использованы элементы шатрового стиля.
- 2) Архитектурное сооружение, изображённое на марке, является местом захоронения первых царей из династии Романовых.
- 3) Стены архитектурного сооружения, изображённого на марке, украшены аркатурным поясом.
- 4) Строительством изображённого на марке архитектурного сооружения руководил зодчий Аристотель Фиораванти.
- 5) Архитектурное сооружение, изображённое на марке, находится на Красной площади в Москве.

Ответ:

--	--

12

Какие из архитектурных сооружений, представленных ниже, являются частью названного на марке архитектурного ансамбля? В ответе запишите две цифры, которыми обозначены эти архитектурные сооружения.

1)



2)



3)



4)



Ответ:

--	--



Рассмотрите изображение и выполните задания 13, 14.



13

Какие суждения о скульптурном памятнике, изображённом на фотографии, являются верными? Выберите два суждения из пяти предложенных. Запишите в таблицу цифры, которыми они обозначены.

- 1) Событие, в честь которого создан данный памятник, произошло в XIV в.
- 2) Изображение на щите воина стало гербом Московского царства.
- 3) Следствием события, в честь которого был создан данный памятник, стало окончательное освобождение русских земель от ордынской зависимости.
- 4) Событие, в честь которого был создан данный памятник, произошло к северу от Москвы.
- 5) Участниками события, в честь которого был создан данный памятник, были великий князь Иван III и хан Ахмат.

Ответ:

<input type="text"/>	<input type="text"/>
----------------------	----------------------

14

Какие из архитектурных сооружений, представленных ниже, были уже построены к моменту, когда произошло событие, в честь которого создан данный памятник? В ответе запишите две цифры, которыми обозначены эти архитектурные сооружения.

1)



2)



3)



4)



Ответ:

--	--

## Раздел II.

### Россия в XVI — конце XVII в.

Рассмотрите изображение и выполните задания 1, 2.



1

Какие суждения о данном почтовом блоке являются верными? Выберите два суждения из пяти предложенных. Запишите в таблицу **цифры**, которыми они обозначены.

- 1) Исторический деятель, памятник которому изображён на почтовом блоке, — создатель славянской азбуки.
- 2) Исторический деятель, памятник которому изображён на почтовом блоке, был современником А. М. Курбского.
- 3) Исторический деятель, памятник которому изображён на почтовом блоке, был участником событий Смутного времени.
- 4) Исторический деятель, памятник которому изображён на почтовом блоке, жил и работал в Москве.
- 5) Данный почтовый блок издан в период президентства Б. Н. Ельцина.

Ответ:

--	--

2) Какие из представленных архитектурных сооружений были построены в том же веке, когда жил исторический деятель, памятник которому изображён на почтовом блоке? В ответе запишите две цифры, которыми обозначены эти архитектурные сооружения.

1)



2)



3)



4)



Ответ:

Рассмотрите изображение и выполните задания 3, 4.



3

Какие суждения о данной марке являются верными? Выберите два суждения из пяти предложенных. Запишите в таблицу цифры, которыми они обозначены.

- 1) Согласно одной из версий, архитекторами данного храма являются Постник и Барма.
- 2) Храм, изображённый на марке, возведён в память о Стоянии на Угре.
- 3) Храм, представленный на марке, является памятником шатровой архитектуры.
- 4) Данная марка выпущена к 450-летию окончания строительства изображённого на ней памятника архитектуры.
- 5) Данная марка выпущена в период, когда СССР руководил Н. С. Хрущёв.

Ответ:

<input type="text"/>	<input type="text"/>
----------------------	----------------------



4) Какие из представленных скульптурных памятников находятся в том же городе, что и памятник архитектуры, представленный на марке? В ответе запишите две цифры, которыми обозначены эти скульптурные памятники.

1)



2)



3)



4)



Ответ:

Рассмотрите изображение и выполните задания 5, 6.



5

Какие суждения о данной марке являются верными? Выберите два суждения из пяти предложенных. Запишите в таблицу цифры, которыми они обозначены.

- 1) Действие картины, изображённой на марке, происходит в Москве.
- 2) Картина, изображённая на данной марке, была написана в период, когда СССР руководил Л. И. Брежнев.
- 3) На картине, представленной на данной марке, изображены оба руководителя Второго ополчения.
- 4) Изображённый на картине исторический деятель, который принимает гостей, — выходец из купеческого сословия.
- 5) Данная марка выпущена через 370 лет после события, которому посвящена изображённая на ней картина.

Ответ:

--	--

6

Какие из представленных архитектурных сооружений были созданы в том же веке, когда произошло событие, которому посвящена картина, изображённая на марке? В ответе запишите две цифры, которыми обозначены эти архитектурные сооружения.

1)



2)



3)



4)



Ответ:

--	--

Рассмотрите изображение и выполните задания 7, 8.



7

Какие суждения о данной марке являются верными? Выберите два суждения из пяти предложенных. Запишите в таблицу цифры, которыми они обозначены.

- 1) Автор картины, изображённой на марке, был членом художественного объединения «Мир искусства».
- 2) Картина, изображённая на марке, хранится в одном из музеев Санкт-Петербурга.
- 3) Данная марка выпущена в год 80-летия создания изображённой на ней картины.
- 4) Событие, изображённое на картине, которой посвящена марка, произошло в первой половине XVII в.
- 5) Картина, изображённая на марке, посвящена событиям церковного раскола.

Ответ:

--	--

8

Какие из представленных произведений живописи были созданы в том же веке, когда произошло событие, которому посвящена картина, изображённая на марке? В ответе запишите две цифры, которыми обозначены эти произведения живописи.

1)



2)



3)



4)



Ответ:

--	--



Рассмотрите изображение и выполните задания 9, 10.



9

Какие суждения о данной медали являются верными? Выберите два суждения из пяти предложенных. Запишите в таблицу цифры, которыми они обозначены.

- 1) В год, который указан на медали, царём в России был Михаил Романов.
- 2) Данная медаль выпущена в период, когда СССР руководил Н. С. Хрущёв.
- 3) Город, название которого указано на медали, был взят фашистами в годы Великой Отечественной войны.
- 4) Один из исторических деятелей, фамилии которых указаны на медали, был посадским старостой.
- 5) Данная медаль посвящена Первому народному ополчению.

Ответ:

--	--

10

Какие из представленных картин посвящены событиям того же века, в котором произошло событие, изображённое на медали? В ответе запишите две цифры, которыми обозначены эти картины.

1)



2)



3)



4)



Ответ:

--	--

Рассмотрите изображение и выполните задания 11, 12.



11

Какие суждения о данной медали являются верными? Выберите два суждения из пяти предложенных. Запишите в таблицу цифры, которыми они обозначены.

- 1) Царь, изображённый на медали, прожил более 30 лет.
- 2) В период правления царя, изображённого на медали, произошла полная отмена местничества.
- 3) В год вступления на престол царя, изображённого на медали, было подписано Андрусовское перемирие.
- 4) На данной медали изображён третий царь из династии Романовых.
- 5) Царь, изображённый на медали, — отец Петра I.

Ответ:

--	--

12

Действие каких из представленных картин происходит в том же десятилетии, когда умер царь, которому посвящена медаль? В ответе запишите две цифры, которыми обозначены эти картины.

1)



2)



3)



4)



Ответ:

--	--

Рассмотрите изображение и выполните задания 13, 14.



13

Какие суждения о данном почтовом блоке являются верными? Выберите два суждения из пяти предложенных. Запишите в таблицу цифры, которыми они обозначены.

- 1) Данный почтовый блок выпущен в период президентства Б. Н. Ельцина.
- 2) Данный почтовый блок посвящён юбилею событий 1612 г.
- 3) Герб России, изображённый на почтовом блоке, появился на Руси в IX в.
- 4) Исторические деятели изображены на почтовом блоке на фоне архитектурных сооружений Москвы.
- 5) Один из исторических деятелей, изображённых на почтовом блоке, — Василий Шуйский.

Ответ:

<input type="text"/>	<input type="text"/>
----------------------	----------------------



14

Действие каких из представленных картин происходит в том же десятилетии, когда произошло событие, юбилею которого посвящён данный почтовый блок? В ответе запишите две цифры, которыми обозначены эти картины.

1)



2)



3)



4)



Ответ:

--	--

Рассмотрите изображение и выполните задания 15, 16.



15

Какие суждения о данной монете являются верными? Выберите два суждения из пяти предложенных. Запишите в таблицу цифры, которыми они обозначены.

- 1) Поход, которому посвящена монета, состоялся в период правления Бориса Годунова.
- 2) Город, название которого указано на монете, был основан в XVII в.
- 3) Поход, которому посвящена монета, положил начало освоению Россией Сибири.
- 4) В организации похода, которому посвящена монета, приняли участие купцы Строгановы.
- 5) Данная монета выпущена к 400-летию события, которому она посвящена.

Ответ:

--	--

16

Какие из представленных архитектурных сооружений были построены в века, указанные на монете? В ответе запишите две цифры, которыми обозначены эти архитектурные сооружения.

1)



2)



3)



4)



Ответ:

--	--

Рассмотрите изображение и выполните задания 17, 18.



17

Какие суждения о данной марке являются верными? Выберите два суждения из пяти предложенных. Запишите в таблицу цифры, которыми они обозначены.

- 1) Пушка, изображённая на марке, использовалась в период Ливонской войны.
- 2) Пушка, изображённая на марке, создана в период правления Ивана IV.
- 3) Данная марка выпущена в период, когда СССР руководил Л. И. Брежнев.
- 4) Автор пушки, изображённой на марке, создал также Царь-колокол.
- 5) Пушка, изображённая на марке, находится в Москве.

Ответ:

18

Какие из представленных скульптурных памятников установлены в память о заслугах исторических деятелей, которые были современниками создания пушки, изображённой на марке? В ответе запишите две цифры, которыми обозначены эти скульптурные памятники.

1)



2)



3)



4)



Ответ:

--	--



Рассмотрите изображение и выполните задания 19, 20.



19

Какие суждения о данном памятном знаке являются верными? Выберите два суждения из пяти предложенных. Запишите в таблицу цифры, которыми они обозначены.

- 1) Один из монархов, изображённых на медали, — Николай II.
- 2) В один из годов, указанных на медали, Россия участвовала в Первой мировой войне.
- 3) В период правления одного из монархов, изображённых на медали, Россия участвовала в Смоленской войне.
- 4) Один из монархов, изображённых на медали, приходится внуком другому изображённому на ней монарху.
- 5) В период правления одного из монархов, изображённых на медали, Россия была провозглашена империей.

Ответ:

20

Какие из представленных скульптурных памятников установлены в том же веке, когда был выпущен данный памятный знак? В ответе запишите две цифры, которыми обозначены эти скульптурные памятники.

1)



2)



3)



4)



Ответ:

--	--

Рассмотрите изображение и выполните задания 21, 22.



21

Какие суждения о данной монете являются верными? Выберите два суждения из пяти предложенных. Запишите в таблицу цифры, которыми они обозначены.

- 1) Монета выпущена в период, когда руководителем СССР был М. С. Горбачёв.
- 2) Один из исторических деятелей, памятник которым изображён на монете, был нижегородским старостой.
- 3) Исторические деятели, памятник которым изображён на монете, прославились участием в Куликовской битве.
- 4) Собор, изображённый на монете за скульптурным памятником, был построен в период правления Ивана IV.
- 5) Один из исторических деятелей, которым посвящён изображённый на монете памятник, был избран на царский престол Земским собором.

Ответ:

--	--

22

Укажите памятники архитектуры, уже построенные к началу периода, когда произошли события, в память о которых был возведён скульптурный памятник, изображённый на монете. В ответе запишите две цифры, которыми обозначены эти памятники архитектуры.

1)



2)



3)



4)



Ответ:

--	--

## Раздел III.

### Россия в конце XVII — начале XX в.

Рассмотрите изображение и выполните задания 1, 2.



1

Какие суждения о марке являются верными? Выберите два суждения из пяти предложенных. Запишите в таблицу цифры, которыми они обозначены.

- 1) Театр, юбилею которого посвящена данная марка, был создан в годы правления Екатерины II.
- 2) Изображённое в нижней части марки здание построено в стиле барокко.
- 3) Все изображённые на марке деятели культуры входили в творческое содружество «Могучая кучка».
- 4) Марка выпущена в годы, когда руководителем СССР был И. В. Сталин.
- 5) Изображённые в верхнем ряду деятели культуры были организаторами «Русских сезонов» в Париже.

Ответ:

--	--



2

Какие из памятников культуры, представленных ниже, были созданы в том же веке, когда был основан театр, юбилею которого посвящена марка? В ответе запишите две цифры, которыми обозначены эти памятники культуры.

1)



2)



3)



4)



Ответ:

--	--

Рассмотрите изображение и выполните задания 3, 4.



3

Какие суждения о марке являются верными? Выберите два суждения из пяти предложенных. Запишите в таблицу цифры, которыми они обозначены.


- 1) Марка посвящена памяти деятеля культуры — члена Товарищества передвижных художественных выставок.
- 2) Сюжет картины, помещённой на марке, посвящён событиям XVIII в.
- 3) Деятель культуры, памяти которого посвящена марка, умер в годы русско-японской войны.
- 4) Марка выпущена в год начала Великой Отечественной войны.
- 5) Изображённый на марке деятель культуры был представителем русского авангардного искусства.

Ответ:


4

Какие из произведений живописи, представленных ниже, были созданы в том же художественном стиле, в каком создавал свои произведения деятель культуры, изображённый на марке? В ответе запишите две цифры, которыми обозначены эти произведения живописи.

1)



2)



3)



4)



Ответ:

--	--

Рассмотрите изображение и выполните задания 5, 6.



5

Какие суждения о марке являются верными? Выберите два суждения из пяти предложенных. Запишите в таблицу цифры, которыми они обозначены.

- 1) Театр, юбилею которого посвящена данная марка, был создан в годы правления Николая I.
- 2) Изображённое в нижней части марки здание построено в стиле классицизм.
- 3) Все изображённые на марке деятели культуры были мастерами оперного искусства.
- 4) Театр, юбилею которого посвящена данная марка, находится в Санкт-Петербурге.
- 5) Один из изображённых на марке деятелей культуры был великим русским драматургом.

Ответ:

--	--

6

Какие из памятников культуры, представленных ниже, были созданы в ту же четверть века, когда был основан театр, юбилею которого посвящена марка? В ответе запишите две цифры, которыми обозначены эти памятники культуры.

1)



2)



3)



4)



Ответ:

--	--



Рассмотрите изображение и выполните задания 7, 8.



7

Какие суждения о марке являются верными? Выберите два суждения из пяти предложенных. Запишите в таблицу цифры, которыми они обозначены.

- 1) Марка посвящена юбилею российского деятеля науки, одного из изобретателей радио.
- 2) Деятель науки, юбилею которого посвящена марка, родился в годы Крымской войны.
- 3) Марка была выпущена в эпоху разрядки.
- 4) На марке помещено изображение сооружения, построенного в стиле конструктивизм.
- 5) В год выхода марки был запущен первый искусственный спутник Земли.

Ответ:

<input type="text"/>	<input type="text"/>
----------------------	----------------------

8

Какие из памятников культуры, представленных ниже, были созданы в той же половине века, когда родился деятель науки, юбилею которого посвящена марка? В ответе запишите две цифры, которыми обозначены эти памятники культуры.

1)



2)



3)



4)



Ответ:

--	--

Рассмотрите изображение и выполните задания 9, 10.



9

Какие суждения о марке являются верными? Выберите два суждения из пяти предложенных. Запишите в таблицу цифры, которыми они обозначены.

- 1) Марка посвящена событию, произошедшему во второй половине XVIII в.
- 2) В основу документа, название которого упоминается в левом верхнем углу марки, были положены идеи французских социалистов-утопистов.
- 3) Заседание комиссии, для которой был написан документ, названный в левом верхнем углу марки, проходило в одном из залов Зимнего дворца.
- 4) В год выхода марки в РФ произошла смена Президента РФ.
- 5) Изображённые на переднем плане в нижней части марки памятники архитектуры были сооружены в годы княжения Ивана III.

Ответ:

--	--

10

Какие из памятных монет, представленных ниже, были выпущены в честь юбилеев событий, произошедших в годы правления монарха, имя которого упомянуто на марке? В ответе запишите две цифры, которыми обозначены эти памятные монеты.

1)



2)



3)



4)



Ответ:

--	--

Рассмотрите изображение и выполните задания 11, 12.



**11** Какие суждения о памятной монете являются верными? Выберите два суждения из пяти предложенных. Запишите в таблицу цифры, которыми они обозначены.

- 1) Данная памятная монета была выпущена к 150-летию со дня рождения исторического деятеля, изображённого на ней.
- 2) Исторический деятель, изображённый на монете, прославился в области медицины.
- 3) Исторический деятель, изображённый на монете, был первым российским лауреатом Нобелевской премии.
- 4) Данная памятная монета выпущена в период президентства В. В. Путина.
- 5) Исторический деятель, изображённый на монете, был участником обороны Севастополя в годы Крымской войны.

Ответ:



12

Какие из произведений живописи, представленных ниже, были созданы современниками исторического деятеля, изображённого на монете? В ответе запишите две цифры, которыми обозначены эти произведения живописи.

1)



2)



3)



4)



Ответ:

<input type="text"/>	<input type="text"/>
----------------------	----------------------

Рассмотрите изображение и выполните задания 13, 14.



13

Какие суждения о памятной монете являются верными? Выберите два суждения из пяти предложенных. Запишите в таблицу цифры, которыми они обозначены.

- 1) Событие, юбилею которого посвящена данная памятная монета, произошло в годы правления Елизаветы Петровны.
- 2) В правой части лицевой стороны монеты изображена Дворцовая площадь.
- 3) Здания, изображённые на лицевой стороне монеты, спроектированы одним архитектором.
- 4) В год выпуска данной памятной монеты в состав РФ вошёл Крым.
- 5) В год, когда произошло событие, юбилею которого посвящена памятная монета, был издан Манифест о вольности дворянской.

Ответ:

--	--

14

Какие из произведений живописи, представленных ниже, хранятся в музее, юбилею создания которого посвящена данная памятная монета? В ответе запишите две цифры, которыми обозначены эти произведения живописи.

1)



2)



3)



4)



Ответ:

--	--

Рассмотрите изображение и выполните задания 15, 16.



15

Какие суждения о данной памятной монете являются верными? Выберите два суждения из пяти предложенных. Запишите в таблицу цифры, которыми они обозначены.

- 1) Деятель культуры, изображённый на монете, является создателем системы подготовки актёров, которая используется по сей день и носит имя своего создателя.
- 2) Данная памятная монета была выпущена в год 150-летия со дня рождения деятеля культуры, изображённого на ней.
- 3) На монете помещён символ театра, одним из создателей которого был деятель культуры, которому она посвящена.
- 4) Деятель культуры, изображённый на монете, родился в годы Крымской войны.
- 5) Данная памятная монета выпущена в период «перестройки».

Ответ:

<input type="text"/>	<input type="text"/>
----------------------	----------------------

16

Какие из представленных ниже архитектурных сооружений были созданы до рождения исторического деятеля, изображённого на монете? В ответе запишите две цифры, которыми обозначены эти архитектурные сооружения.

1)



2)



3)



4)



Ответ:

<input type="text"/>	<input type="text"/>
----------------------	----------------------



Рассмотрите изображение и выполните задания 17, 18.



17

Какие суждения о марке являются верными? Выберите два суждения из пяти предложенных. Запишите в таблицу цифры, которыми они обозначены.

- 1) Событие, юбилею которого посвящена марка, произошло в эпоху Великих реформ.
- 2) Здание, изображённое на марке, было специально построено для учреждения культуры, юбилею создания которого посвящена марка.
- 3) Здание, изображённое на марке, построено в стиле классицизма.
- 4) В год выпуска марки началась эпоха разрядки в международных отношениях.
- 5) Здание, изображённое на марке, находится в Санкт-Петербурге.

Ответ:

<input type="text"/>	<input type="text"/>
----------------------	----------------------


18

На каких из представленных ниже портретов деятелей российской культуры изображены современники события, юбилею которого посвящена данная почтовая марка? В ответе запишите две цифры, которыми обозначены эти произведения живописи.


1)



2)



3)



4)



Ответ:

--	--

Рассмотрите изображение и выполните задания 19, 20.



19

Какие суждения о памятной монете являются верными? Выберите два суждения из пяти предложенных. Запишите в таблицу цифры, которыми они обозначены.

- 1) Архитектурные сооружения, юбилею возведения которых посвящена монета, были установлены в годы царствования Александра I.
- 2) Здание, изображённое на заднем плане справа, построено в стиле барокко.
- 3) Архитектурные сооружения, изображённые на монете, находятся в Санкт-Петербурге.
- 4) На монете указан год подписания Тильзитского мира.
- 5) Архитектором одного из зданий, изображённых на монете, был Ф. О. Шехтель.

Ответ:

--	--

20

Какие из памятников культуры, представленных ниже, созданы в том же стиле, что и здание, изображённое на монете на заднем плане справа? В ответе запишите две цифры, которыми обозначены эти памятники культуры.


1)



2)



3)



4)



Ответ:

--	--

## Раздел IV.

### Россия в начале XX — начале XXI в.

Рассмотрите изображение и выполните задания 1, 2.



1

Какие суждения о данной марке являются верными? Выберите два суждения из пяти предложенных. Запишите в таблицу **цифры**, которыми они обозначены.

- 1) Данная марка выпущена в период президентства Д. А. Медведева.
- 2) Генерал, по фамилии которого названа военная операция, указанная на марке, был одним из руководителей Белого движения в годы Гражданской войны.
- 3) Война, название которой указано на марке, завершилась в период правления Николая II.
- 4) Военная операция, которой посвящена данная марка, была проведена в 1916 г.
- 5) Основным противником России в ходе военной операции, которой посвящена марка, была Австро-Венгрия.

Ответ:

<input type="text"/>	<input type="text"/>
----------------------	----------------------



2

Какие из представленных памятников установлены в память о войне, название которой указано на марке? В ответе запишите две цифры, которыми обозначены эти памятники.

1)



2)



3)




4)



Ответ:

<input type="text"/>	<input type="text"/>
----------------------	----------------------

Рассмотрите изображение и выполните задания 3, 4.



"Есть такая партия"

3

Какие суждения о данной картине являются верными? Выберите два суждения из пяти предложенных. Запишите в таблицу цифры, которыми они обозначены.

- 1) На данной картине изображён политический деятель, который стал первым председателем Совета Народных Комиссаров.
- 2) Один из политических деятелей, изображённых на картине, был руководителем СССР в период «застоя».
- 3) В названии картины идёт речь о партии эсеров.
- 4) Действие картины происходит в Петрограде.
- 5) Действие картины происходит в 1918 г.

Ответ:

--	--

4) Какие из представленных плакатов были выпущены в период жизни одного из политических деятелей, изображённых на картине? В ответе запишите две цифры, которыми обозначены эти плакаты.

1)



2)



3)



4)



Ответ:

Рассмотрите изображение и выполните задания 5, 6.



5

Какие суждения о данной марке являются верными? Выберите два суждения из пяти предложенных. Запишите в таблицу цифры, которыми они обозначены.

- 1) Декрет, изображённый на марке, был принят в 1918 г.
- 2) Современником исторического деятеля, изображённого на марке, был император Николай I.
- 3) Государство, название которого написано на марке, было создано при жизни изображённого на ней политического деятеля.
- 4) На глобусе, изображённом на марке, видна территория Дальнего Востока.
- 5) Данная марка выпущена в период, когда СССР руководил Л. И. Брежнев.

Ответ:

--	--

6

Какие из представленных памятников архитектуры были построены в период жизни исторического деятеля, изображённого на марке? В ответе запишите две цифры, которыми обозначены эти памятники архитектуры.

1)



2)



3)



4)



Ответ:

--	--

Рассмотрите изображение и выполните задания 7, 8.



7

Какие суждения о данной марке являются верными? Выберите два суждения из пяти предложенных. Запишите в таблицу цифры, которыми они обозначены.

- 1) В год, когда отмечался юбилей, которому посвящена марка, состоялся XX съезд КПСС.
- 2) В год, когда была выпущена марка, руководителем СССР был Н. С. Хрущёв.
- 3) В год Гражданской войны, указанный на марке, была отброшена от Москвы армия А. И. Деникина.
- 4) В год, когда произошло событие, юбилею которого посвящена марка, состоялась Генуэзская конференция.
- 5) На значке, изображённом на марке, представлен профиль Ф. Э. Дзержинского.

Ответ:

<input type="text"/>	<input type="text"/>
----------------------	----------------------



8

Какие из памятников архитектуры были построены в хронологический период, указанный на марке? В ответе запишите две цифры, которыми обозначены эти памятники архитектуры.

1)



2)



3)



4)



Ответ:

--	--

Рассмотрите изображение и выполните задания 9, 10.



9

Какие суждения о данной марке являются верными? Выберите два суждения из пяти предложенных. Запишите в таблицу цифры, которыми они обозначены.

- 1) В один из годов, указанных на марке, завершилась Первая мировая война.
- 2) В один из годов, указанных на марке, зародилось стахановское движение.
- 3) На марке изображено использование в колхозе сельскохозяйственной техники.
- 4) В период, когда была выпущена данная марка, руководителем СССР был В. И. Ленин.
- 5) Данная марка выпущена в годы первых пятилеток.

Ответ:

--	--

10

Какие из представленных плакатов были изданы в то же десятилетие, когда вышла данная марка? В ответе запишите две цифры, которыми обозначены эти плакаты.

1)



2)



3)



4)



Ответ:

--	--

Рассмотрите изображение и выполните задания 11, 12.



11

Какие суждения о данном плакате являются верными? Выберите два суждения из пяти предложенных. Запишите в таблицу цифры, которыми они обозначены.

- 1) Политический деятель, изображённый на трибуне, был народным комиссаром иностранных дел.
- 2) В президиуме, который находится за спиной выступающего политического деятеля, изображён Л. Д. Троцкий.
- 3) Начало движению передовиков производства, которому посвящён плакат, положили шахтёры.
- 4) События, запечатлённые на плакате, происходят в период проведения в СССР новой экономической политики (нэп).
- 5) Движение передовиков производства, которому посвящён плакат, зародилось в середине 1930-х гг.


Ответ:

<input type="text"/>	<input type="text"/>
----------------------	----------------------

12

Кто из представленных деятелей культуры был современником издания данного плаката? В ответе запишите две цифры, которыми обозначены портреты этих деятелей культуры.

1)




2)



3)



4)



Ответ:

<input type="text"/>	<input type="text"/>
----------------------	----------------------

Рассмотрите изображение и выполните задания 13, 14.



13

Какие суждения о данной марке являются верными? Выберите два суждения из пяти предложенных. Запишите в таблицу цифры, которыми они обозначены.

- 1) Государственный символ, расположенный в левой части марки, появился на флаге России в первом десятилетии XX в.
- 2) Декрет, название которого указано на марке, был принят I Всероссийским съездом Советов.
- 3) В период, когда была выпущена данная марка, действовала «сталинская» Конституция СССР.
- 4) Политический деятель, фамилия которого указана на марке, умер в 1980-х гг.
- 5) Данная марка выпущена в 1982 г.

Ответ:

--	--




14

Строительство каких из представленных зданий было окончено в период руководства СССР политического деятеля, фамилия которого указана на марке? В ответе запишите две цифры, которыми обозначены эти здания.

1)



2)



3)



4)



Ответ:

<input type="text"/>	<input type="text"/>
----------------------	----------------------

Рассмотрите изображение и выполните задания 15, 16.



15

Какие суждения о данной марке являются верными? Выберите два суждения из пяти предложенных. Запишите в таблицу цифры, которыми они обозначены.

- 1) Один из монументов, изображённых на марке, был создан в 1950-х гг.
- 2) Проекты обоих монументов, изображённых на марке, созданы в стиле социалистического реализма.
- 3) Один из монументов, изображённых на марке, в настоящее время находится в Москве.
- 4) Данная марка выпущена в период президентства Б. Н. Ельцина.
- 5) Автор проекта одного из монументов, изображённых на марке, — В. И. Мухина.

Ответ:

--	--


16

Кто из представленных деятелей культуры был современником создания проектов, изображённых на марке? В ответе запишите две цифры, которыми обозначены портреты этих деятелей культуры.

1)



2)



3)



4)



Ответ:

Рассмотрите изображение и выполните задания 17, 18.



17

Какие суждения о данном знаке являются верными? Выберите два суждения из пяти предложенных. Запишите в таблицу цифры, которыми они обозначены.

- 1) Один из политических деятелей, чьи профили изображены на знаке, был инициатором массового освоения целинных и залежных земель.
- 2) В год, когда был выпущен данный знак, стахановское движение ещё не зародилось.
- 3) В один из годов, указанных на данном знаке, было распущено Учредительное собрание.
- 4) Одного из политических деятелей, чьи профили изображены на знаке, уже не было в живых к моменту его выпуска.
- 5) Данный знак был выпущен в конце второй пятилетки.

Ответ:

<input type="text"/>	<input type="text"/>
----------------------	----------------------

18

Кто из представленных деятелей культуры был современником политических деятелей, профили которых изображены на знаке? В ответе запишите две цифры, которыми обозначены портреты этих деятелей культуры.


1)




2)



3)



4)



Ответ:

Рассмотрите изображение и выполните задания 19, 20.



19

Какие суждения о данной марке являются верными? Выберите два суждения из пяти предложенных. Запишите в таблицу цифры, которыми они обозначены.

- 1) Оба политических деятеля, изображённых на марке, родились в XIX в.
- 2) Данная марка посвящена годовщине Первой российской революции.
- 3) Один из политических деятелей, изображённых на марке, был членом народнической организации «Народная воля».
- 4) Основная часть кремлёвской башни, контур которой изображён на марке, была построена в XIII в.
- 5) Данная марка была выпущена в период Великой Отечественной войны.

Ответ:

--	--




Какие из плакатов были выпущены в том же десятилетии, что и данная марка? В ответе запишите две цифры, которыми обозначены эти плакаты.

1)

**РОДИНА-МАТЬ  
ЗОВЕТ!**



2)



3)



4)



Ответ:

--	--

Рассмотрите изображение и выполните задания 21, 22.



21

Какие суждения о данной купюре являются верными? Выберите два суждения из пяти предложенных. Запишите в таблицу цифры, которыми они обозначены.

- 1) Данная купюра была введена в обращение, когда руководителем СССР был И. В. Сталин.
- 2) В год, когда была введена в обращение данная купюра, в СССР была проведена денежная реформа.
- 3) На изображении, помещённом на купюру, видны Большой Кремлёвский дворец и колокольня Ивана Великого.
- 4) Данная купюра была выведена из обращения в начале 2000-х гг.
- 5) Данная купюра в период введения в обращение считалась купюрой мелкого достоинства.

Ответ:

--	--

22

Какие из плакатов были выпущены в том же десятилетии, что и данная купюра? В ответе запишите две цифры, которыми обозначены эти плакаты.

1)



2)



3)



4)



Ответ:

Рассмотрите изображение и выполните задания 23, 24.



23

Какие суждения о данной марке являются верными? Выберите два суждения из пяти предложенных. Запишите в таблицу цифры, которыми они обозначены.

- 1) В период, когда был учреждён орден, изображённый на марке, руководителем страны был В. И. Ленин.
- 2) Государство, название которого указано на марке, прекратило своё существование в 1985 г.
- 3) Полководец, именем которого назван орден, изображённый на марке, был современником Екатерины II.
- 4) Полководец, именем которого назван орден, изображённый на марке, был участником Синопского сражения.
- 5) Орденом, изображённым на марке, награждались командиры Красной армии.

Ответ:

--	--

24

Какие из памятников культуры были созданы в период жизни полководца, именем которого назван орден, изображённый на марке? В ответе запишите две цифры, которыми обозначены эти памятники культуры.

1)



2)



3)



4)



Ответ:

--	--

Рассмотрите изображение и выполните задания 25, 26.



25

Какие суждения о данном плакате являются верными? Выберите два суждения из пяти предложенных. Запишите в таблицу цифры, которыми они обозначены.

- 1) На плакате изображён контур территории СССР.
- 2) Декрет, название которого указано на плакате, был принят в годы участия России в Первой мировой войне.
- 3) Руководитель СССР, изображённый на плакате, был инициатором передачи Крымской области из состава РСФСР в состав УССР.
- 4) Название партии, указанное на плакате, появилось в 1917 г.
- 5) Руководитель СССР, изображённый на плакате, был инициатором «перестройки» в СССР.

Ответ:

<input type="text"/>	<input type="text"/>
----------------------	----------------------



26

Какие марки были выпущены в период, когда СССР руководил политический деятель, изображённый на плакате? В ответе запишите две цифры, которыми обозначены эти марки.

1)



2)



3)



4)



Ответ:

Рассмотрите изображение и выполните задания 27, 28.



27

Какие суждения о данной марке являются верными? Выберите два суждения из пяти предложенных. Запишите в таблицу цифры, которыми они обозначены.

- 1) В год, когда была выпущена данная марка, руководителем СССР был Н. С. Хрущёв.
- 2) Данная марка выпущена в год 20-летия Великой Победы.
- 3) Название города, указанное на марке, существовало около 30 лет.
- 4) В один из годов, указанных на марке, от фашистов был освобождён Минск.
- 5) Город, которому посвящена марка, в годы Великой Отечественной войны выдержал блокаду, продолжавшуюся около 900 дней.

Ответ:

28

Какие из данных плакатов были выпущены в период войны, годы которой указаны на марке? В ответе запишите две цифры, которыми обозначены эти плакаты.

1) **РОДИНА-МАТЬ  
ЗОВЕТ!**



2)



3)



4)



Ответ:

Рассмотрите изображение и выполните задания 29, 30.



29

Какие суждения о данной медали являются верными? Выберите два суждения из пяти предложенных. Запишите в таблицу цифры, которыми они обозначены.

- 1) Исторический деятель, изображённый на медали, умер в 1956 г.
- 2) На медали написаны строки из произведения Е. А. Евтушенко.
- 3) В ходе войны, которой посвящена данная медаль, состоялся Брусиловский прорыв.
- 4) На медали указаны годы начала и окончания Второй мировой войны.
- 5) Данная медаль выпущена в период президентства В. В. Путина.

Ответ:

--	--

30

Какие из представленных плакатов были созданы в ходе войны, годы которой указаны на медали? В ответе запишите две цифры, которыми обозначены эти плакаты.

1)



**ОТСТОИМ МОСКВУ!**

2)



3)



4)



Ответ:

--	--

Рассмотрите изображение и выполните задания 31, 32.



31

Какие суждения о данной медали являются верными? Выберите два суждения из пяти предложенных. Запишите в таблицу цифры, которыми они обозначены.

- 1) Участником битвы, схема которой изображена на медали, был И. В. Панфилов.
- 2) Годовщина, которой посвящена медаль, отмечалась в 1968 г.
- 3) В начале битвы, схема которой изображена на медали, Курск был оккупирован немецко-фашистскими войсками.
- 4) Битва, схема которой изображена на медали, состоялась зимой.
- 5) В честь освобождения городов, названия которых указаны на медали, в Москве был произведён первый победный салют в ходе Великой Отечественной войны.

Ответ:

--	--



Какие из представленных плакатов были созданы в ходе войны, событию которой посвящена данная медаль? В ответе запишите две цифры, которыми обозначены эти плакаты.



Ответ:

# Ответы к заданиям

## РАЗДЕЛ I

Номер задания	1	2	3	4	5	6	7	8	9	10	11	12	13	14
Ответ	24	14	35	24	13	13	24	24	35	23	34	13	35	24

## РАЗДЕЛ II

Номер задания	1	2	3	4	5	6	7	8	9	10	11	12	13	14
Ответ	24	23	13	23	35	34	35	12	24	24	24	14	24	24

Номер задания	15	16	17	18	19	20	21	22						
Ответ	34	23	35	14	13	14	24	14						

## РАЗДЕЛ III

Номер задания	1	2	3	4	5	6	7	8	9	10	11	12	13	14
Ответ	14	34	14	23	25	12	14	23	15	13	25	23	24	12

Номер задания	15	16	17	18	19	20								
Ответ	13	24	13	23	13	14								

## РАЗДЕЛ IV

Номер задания	1	2	3	4	5	6	7	8	9	10	11	12	13	14
Ответ	45	24	14	13	34	23	23	14	35	13	35	23	45	24

Номер задания	15	16	17	18	19	20	21	22	23	24	25	26	27	28
Ответ	35	13	24	12	15	14	23	12	35	14	12	34	25	14

Номер задания	29	30	31	32										
Ответ	25	14	25	24										

Пособие «История. Трудные задания ЕГЭ. Работа с изображениями» адресовано выпускникам школ, планирующим получить высокий балл на экзамене.

В пособии приведён подробный разбор выполнения заданий ЕГЭ по работе с изображениями. Работа с изображениями предполагается в заданиях 18–19 контрольных измерительных материалов ЕГЭ по истории. Отбор заданий осуществлён на основе анализа результатов выполнения экзаменационных работ участниками ЕГЭ прошлых лет, подготовленного Федеральным институтом педагогических измерений.

В пособии проанализированы типичные ошибки, возникающие при решении выбранных заданий; приводятся примеры решения подобных заданий с комментариями; предлагаются задания для самостоятельного решения. В конце пособия содержатся ответы на задания.

Пособие адресовано выпускникам для отработки навыков, закрепления способов и приёмов решения наиболее сложных заданий ЕГЭ как под руководством учителя, так и самостоятельно.

Полный ассортимент продукции издательства «Просвещение» вы можете приобрести в официальном интернет-магазине:

- **низкие цены;**
- **оперативная доставка по всей России;**
- **защита от подделок;**
- **привилегии постоянным покупателям;**
- **разнообразные акции в течение всего года.**



+



=

**успех  
на  
ЕГЭ**

Доступно в интернет-магазине  
**shop.prosv.ru**

ISBN 978-5-09-067993-0



9 785090 679930



**ПРОСВЕЩЕНИЕ**  
ИЗДАТЕЛЬСТВО

[www.prosv.ru](http://www.prosv.ru)

